

**RALLYE MATHÉMATIQUE SANS
FRONTIÈRES**

SOLUCIONES



PRUEBA

2002

1- El Roscón de Reyes

Trazamos el triángulo ACB que será isósceles (los lados iguales medirán R y el desigual 20 cm)

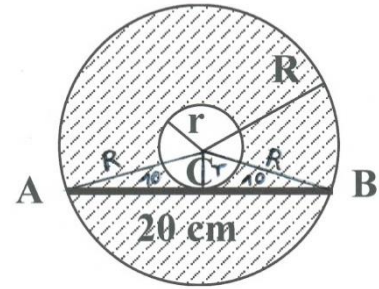
Como el punto de tangencia de la recta divide el triángulo isósceles anterior en dos triángulos rectángulos iguales, por el teorema de Pitágoras tenemos:

$$R^2 = r^2 + 10^2$$

$$R^2 - r^2 = 100$$

Para hallar el área de la corona circular

$$S = \pi R^2 - \pi r^2 = \pi(R^2 - r^2) = 100\pi \approx 314,16 \text{ cm}^2$$



2 – Una investigación de Sherlock Holmes

F (falso) V (verdad)

Culpable	Lo que dice Miguel es:	Lo que dice Alan es:	Lo que dice Fernando es:	Lo que dice Fran es:
Miguel	F	F	V	V
Alan	V	F	V	V
Fernando	F	F	F	V
Fran	F	V	V	F

Vemos que la solución está en la tercera fila puesto que en todas las demás hay más de una persona que dice la verdad. Por tanto, El culpable es Fernando y el único que dice la verdad es Fran.

3 – Una fecha “sorprendente”

La fecha es el 17 de Junio de 2345:

1 7 0 6 2 3 4 5

Primero se comprueba que la fecha tiene que ser del S XXI ya que los años posteriores a 1987 del s XX tendrían que repetir el 9 o el 8 y no es posible.

Si el año fuese 20AB, no se podría repetir el 0 por lo que los meses serían 11 (no es posible porque se repite el 1) o 12 (no es posible porque el 2 se necesita para no saltar de

milenio puesto que buscamos el año más cercano) Así el 0 será el primer número que representa los meses.

— — 0 — — 2 — — —

En cuanto a los días no podrían llevar ni 0 ni 2 puesto que estos ya aparecen en los meses y años por lo que el primer número sería 3 ó 1.

Si fuera 3 tendría que ser 31 ya que 30 llevaría un 0 y éste ya aparece en los meses:

3 1 0 — 2 1 — — repetiría el 1 y no interesa el año 24AB que sería la opción. Los días serán por tanto de la forma 1A

1 — 0 — 2 — — — —

Por tanto el año más cercano sería 2345. De esta manera el mes más próximo será 06 y el día el 17:

17 06 2345

4 – Esas curiosas sumas

a) $n+(n+1)=105$ de donde $2n=104$, $n=52$

Los dos números consecutivos serán **52 y 53**

b) $(n-1)+n+(n+1)=105$, de donde $3n=105$, luego $n=35$

Los tres números consecutivos obtenidos son **34, 35 y 36**

c) Estudiamos las opciones con una cantidad PAR de números consecutivos:

a. Si son 4

$$(n - 1) + n + (n + 1) + (n + 2) = 105$$

$$4n = 103$$

$$n = 25,75 \text{ que no es natural}$$

b. Si fueran 6:

$$(n - 2) + (n - 1) + n + (n + 1) + (n + 2) + (n + 3) = 105$$

$$6n = 102$$

$$n = 17$$

En este caso obtenemos **15, 16, 17, 18 , 19 y 20**

c. Con 8 no obtenemos número natural

d. Si tomamos 10 términos:

$$(n - 4) + (n - 3) + (n - 2) + (n - 1) + n + (n + 1) + (n + 2) + (n + 3) + (n + 4) + (n + 5) = 105$$

$$10n = 100$$

$$n = 10$$

Los números serían **6, 7, 8, 9, 10, 11, 12, 13, 14 y 15**

e. Con 12 términos tendríamos no obtenemos n° natural:

f. Si fueran 14:

$$(n - 6) + (n - 5) + (n - 4) + (n - 3) + (n - 2) + (n - 1) + n + (n + 1) + (n + 2) + (n + 3) + (n + 4) + (n + 5) + (n + 6) + (n + 7) = 105$$

$$14n = 98$$

$$n = 7$$

Los números serían: **1,2,3,4,5,6,7,8,9,10, 11, 12, 13, y 14.**

Con un número par ya no podemos encontrar más soluciones puesto que serían números negativos

d) Estudiamos las opciones con una cantidad IMPAR de números consecutivos:

a. Si son 5

$$(n - 2) + (n - 1) + n + (n + 1) + (n + 2) = 105$$

$$5n = 105$$

$$n = 21$$

Obtenemos así los números consecutivos: **19, 20, 21, 22 y 23**

b. Si fueran 7:

$$7n = 105$$

$$n = 15$$

En este caso obtenemos **12, 13, 14, 15, 16, 17 y 18**

c. Si fueran 9:

$$9n = 105$$

que no daría un número natural.

Así sucesivamente hasta el siguiente divisor de 105 que es 15 (términos)

$$15n = 105$$

$$n = 7$$

Lo números serían **0, 1, 2, 3, 4, 5, 6, 7, 8, 9, 10, 11, 12, 13 y 14**

Como han de ser estrictamente positivos, esta solución no es válida, Ya no quedan más opciones porque la siguiente daría números negativos.

Por tanto hemos obtenido **7 posibilidades:**

PAR	Con 2: 52 y 53	Con 6: 15, 16, 17, 18, 19 y 20	Con 10: 6, 7, 8, 9, 10, 11, 12, 13, 14 y 15	Con 14: 1, 2, 3, 4, 5, 6, 7, 8, 9, 10, 11, 12, 13 y 14
IMPAR	Con 3: 34, 35 y 36	Con 5: 19, 20, 21, 22 y 23	Con 7: 12, 13, 14, 15, 16, 17 y 18	

Otra forma de resolverlo

Generalizamos los apartados 2 y 3 escribiendo n números consecutivos cuya suma es 105 llamando x al primero:

$$x + (x + 1) + (x + 2) + \dots + (x + (n - 1)) = 105$$

Agrupando sería: $nx + (1 + 2 + 3 + \dots + (n - 1)) = 105$

Aplicando la suma de los n-1 términos de la progresión aritmética que forma nuestra sucesión de números naturales, se tiene:

$$nx + \frac{n(n - 1)}{2} = 105$$

Y despejando x:

$$x = \frac{210 + n - n^2}{2n}$$

Siendo n el número de términos que sumamos.

Así podemos ir dando a n valores a partir de 4 (en los apartados a y b habíamos visto la suma de $n=2$ y $n=3$ términos) obteniendo mediante la fórmula el primer número natural x . Cuando x no sale natural es porque no existe solución para ese n^o de términos. Los resultados son:

$$\text{Si } n = 5 \underset{\text{si}}{\Rightarrow} x = 19$$

$$\text{Si } n = 6 \underset{\text{si}}{\Rightarrow} x = 15$$

$$\text{Si } n = 7 \underset{\text{si}}{\Rightarrow} x = 12$$

$$\text{Si } n = 10 \underset{\text{si}}{\Rightarrow} x = 6$$

$$\text{Si } n = 14 \underset{\text{si}}{\Rightarrow} x = 1$$

Para los siguientes valores obtendríamos $x=0$ o números negativos. Por ello, en total, hay 7 posibilidades (n^o de términos $n= 2, 3, 5, 6, 7, 10$ y 14)

5 –El buen año

a) Si al dividir 2002 entre 5 nos da de resto 2: $2002=5n+2$

Así:

$$2002^2 = (5n + 2)^2 = 25n^2 + 20n + 4 = 5(5n + 4n) + 4$$

luego el resto al dividir 2002^2 por 5 es $2^2= 4$

b) De la misma manera podemos obtener 2002^3 :

$$2002^3 = (5n + 2)^3 = 125n^3 + 150n^2 + 60n + 8 = 5(25n^3 + 30n^2 + 12n) + 8$$

Luego el resto de dividir 2002^3 por 5 es $2^3= 8$

c) $2002^{2002} = (5n + 2)^{2002}$ como todos los términos de su desarrollo tienen a 5 como factor salvo el último, el resto es 2^{2002}

6 – Escalar el poste

Sabiendo que $\frac{CH}{AH} = 0,466$

Tenemos:

$$\frac{10}{AH} = 0,466$$

De donde obtenemos $AH = \frac{10}{0,466} = 21,5$

Por Tales:

$$\frac{CH}{AH} = \frac{XH}{BH} = 0,466$$

$$\text{Así: } \frac{XH}{BH} = \frac{XC+10}{AH+6} = \frac{xc+10}{27,5} = 0,466$$

Despejamos XC:

$$XC = 0,466 \cdot 27,5 - 10 = 2,82 \text{ m}$$

Especial Tercero de ESO

7 - ¡Vaya cometa!

Trazamos las alturas del triángulo AOD (y) que también lo será del triángulo OCD y la de OBC (x) que también lo será del triángulo OBC.

El área del triángulo OAB será

$$a = \frac{OA \cdot x}{2}$$

siendo a el área del triángulo OAB que es lo que nos piden.

El área del triángulo OBC es:

$$6 = \frac{OC \cdot x}{2}$$

Si dividimos miembro a miembro las dos expresiones anteriores, obtenemos:

$$\frac{a}{6} = \frac{OA \cdot x}{OC \cdot x} = \frac{OA}{OC}$$

El área del triángulo AOD es:

$$12 = \frac{OA \cdot y}{2}$$

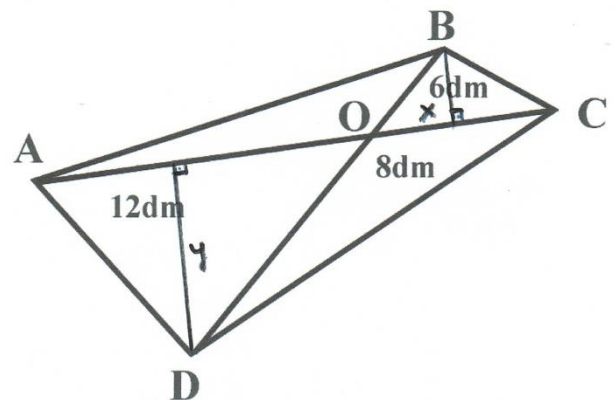
El área del triángulo OCD es:

$$8 = \frac{OC \cdot y}{2}$$

Dividimos miembro a miembro y obtenemos:

$$\frac{12}{8} = \frac{OA \cdot y}{OC \cdot y} = \frac{OA}{OC}$$

Teníamos



$$\frac{a}{6} = \frac{OA}{OC}$$

y ahora hemos obtenido

$$\frac{3}{2} = \frac{OA}{OC}$$

Por tanto:

$$\frac{3}{2} = \frac{a}{6}$$

Se tiene que

$$a = 9 \text{ dm}^2$$

8 – La multiplicación de los cubos

Contamos ordenadamente:

Con 0 caras pintadas (total 12):

- Intermedios de la cara inferior: 4
- Interiores del cubo grande: $4 \cdot 2 = 8$

Con 1 caras pintada (total 28):

- Laterales Inferiores intermedios: $2 \cdot 4 = 8$
- Laterales intermedios: $4 \cdot 4 = 16$
- Superiores intermedios: 4

Con 2 caras pintadas (total 20):

- Esquinas laterales salvo la superior: $3 \cdot 4 = 12$
- Laterales superiores: $2 \cdot 4 = 8$

Con 3 caras pintadas (total 4):

- Esquinas superiores: 4

Comprobamos que la suma nos da los $4^3 = 64$ cuadraditos:

$$12 + 28 + 20 + 4 = 64$$

Especial Cuarto de ESO

7 – Paso al Euro

Si llamamos \dot{N} a un múltiplo cualquiera de N:

$$427 = \dot{N} + 7$$

$$519 = \dot{N} + 3$$

Luego $420 = \dot{N}$ y $516 = \dot{N}$ Es decir, N es divisor común de 420 y 516.

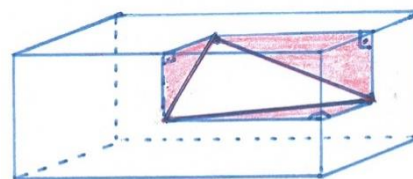
Los posibles divisores comunes serían 2,3,4, 6 y 12 .

Debe ser $N=12$ ya que si fueran 2, 3, 4 ó 6 no podrían sobrar 7 monedas.

8 – La caja

Para cada dos centros formamos el triángulo rectángulo que se obtiene al proyectar sobre las dos caras correspondientes el segmento que une los dos centros.

Si llamamos a, b y c a las dimensiones de la caja y aplicamos Pitágoras, tenemos el siguiente sistema de tres ecuaciones con tres incógnitas:



$$\begin{cases} \left(\frac{b}{2}\right)^2 + \left(\frac{c}{2}\right)^2 = 16^2 \\ \left(\frac{a}{2}\right)^2 + \left(\frac{b}{2}\right)^2 = 24^2 \\ \left(\frac{a}{2}\right)^2 + \left(\frac{c}{2}\right)^2 = 20^2 \end{cases}$$

Es decir:

$$\begin{cases} b^2 + c^2 = 1024 \\ a^2 + b^2 = 2304 \\ c^2 + a^2 = 1600 \end{cases}$$

Restando la primera y segunda ecuación obtenemos:

$c^2 - a^2 = -1280$ que junto a la tercera nos da un sistema de dos ecuaciones con dos incógnitas que resolvemos por reducción:

$$\begin{cases} c^2 - a^2 = -1280 \\ c^2 + a^2 = 1600 \end{cases}$$

De donde $2c^2 = 320$ así $c = 4\sqrt{10}$

Si restamos ahora las segunda y tercera ecuación tenemos:

$$\begin{cases} b^2 - c^2 = 704 \\ b^2 + c^2 = 1024 \end{cases}$$

Que nos da $b = 12\sqrt{6}$

Y, finalmente, de la ecuación $a^2 + c^2 = 1600$ y sustituyendo c por el valor obtenido, nos da

$$a = 12\sqrt{10}$$

Por tanto, el volumen de la caja será:

$$V = a \cdot b \cdot c = 12\sqrt{10} \cdot 12\sqrt{6} \cdot 4\sqrt{10} = 5760\sqrt{6} \cong 14.109,06 \text{ cm}^3$$