

SOLUCIONES

Problema 1. ¿ se puede expresar el área de un triángulo ABC mediante la fórmula $S = Rr(\sin A + \sin B + \sin C)$? $R =$ radio del círculo circunscrito $r =$ " " " " inscrito.

Solución. Si recordamos el teorema de los senos y su interpretación geométrica, tenemos

$$\frac{a}{\sin A} = \frac{b}{\sin B} = \frac{c}{\sin C} = 2R \Rightarrow \sin A = \frac{a}{2R} \quad \sin B = \frac{b}{2R} \quad \sin C = \frac{c}{2R}$$

si sustituimos en la expresión que nos dan, queda

$$S = Rr \left(\frac{a}{2R} + \frac{b}{2R} + \frac{c}{2R} \right) = \frac{r}{2} (a+b+c) = \frac{r}{2} \cdot 2p = rp =$$

$$= \frac{\sqrt{\frac{(p-a)(p-b)(p-c)}{p}} \cdot p = \sqrt{p(p-a)(p-b)(p-c)} =$$

fórmula de Herón para el cálculo del área de un triáng. en función de los lados.

Es por el área la fórmula dada.

Problema 2. El n° A364054898270644B es divisible por 99, calcular el par ordenado (A,B)

Solución. Si es divisible por 99, lo será por 9 y 11 a la vez, así se obtiene:

$$\begin{cases} 71 + A + B = 9 \\ 77 + A - 34 - B = 11 \end{cases} \Rightarrow \begin{cases} A + B = 9 - 71 \\ A - B = 11 - 3 \end{cases} \Rightarrow \begin{cases} A + B = 9 + 1 \\ A - B = 11 - 3 \end{cases} \Rightarrow \begin{matrix} \text{sumando y} \\ \text{restando} \end{matrix}$$

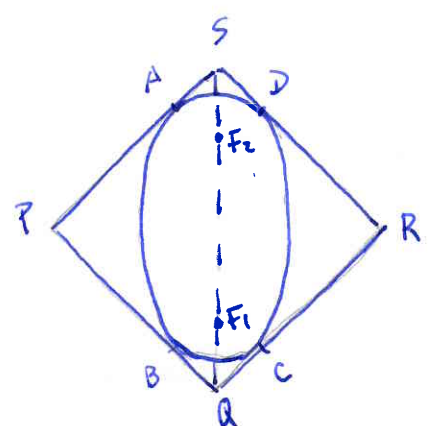
$$\begin{aligned} 2A &= 9 + 11 - 2 \\ 2B &= 9 - 11 + 4 \end{aligned}$$

$$\Rightarrow \begin{cases} A = \frac{9+11}{2} - 1 \\ B = \frac{9-11}{2} + 2 \end{cases}$$

Combinando los posibles valores de 9 y 11 obtenemos $A=9 \quad B=1$

Así $(A,B) = (9,1)$

Problema 3. Dada la elipse de la figura, inscribir un cuadrado PQRS, siendo F_1 y F_2 los focos, justificar:



- a) $PAF_1 = QBF_1$
- b) PAF_1B es un cuadrilátero inscriptible en un círculo.

Es decir, suponemos que $(a+b)^{(n)} = a^{(n)} + \binom{n}{1} a^{(n-1)} \cdot b + \dots + \binom{n}{n} b^{(n)}$ 2.-

Tendremos que probar que la fórmula es cierta para $n+1$

$$\begin{aligned} (a+b)^{(n+1)} &= (a+b)^{(n)} \cdot (a+b) = \left[a^{(n)} + \binom{n}{1} a^{(n-1)} \cdot b + \dots + \binom{n}{n} b^{(n)} \right] \cdot (a+b) = \\ &= a^{(n)} \cdot (a+b) + \binom{n}{1} a^{(n-1)} b (a+b) + \dots + \binom{n}{n} b^{(n)} (a+b) = \\ &= a^{(n+1)} + \binom{n}{0} a^{(n)} b + \binom{n}{1} a^{(n-1)} b^2 + \binom{n}{2} a^{(n-2)} b^3 + \dots + b^{(n+1)} = \\ &= a^{(n+1)} + \binom{n+1}{1} a^{(n)} b + \binom{n+1}{2} a^{(n-1)} b^2 + \dots + b^{(n+1)} \quad \text{c.g.p.} \end{aligned}$$

así pues $f(x) = (x+x)^{(8)} = (2x)^{(8)} = 2x(2x-1)(2x-2) \dots (2x-7) = 0$

soluciones: $x=0, x=\frac{1}{2}, x=1, \dots, x=7/2.$

Problema 5. Demostrar que los números de la sucesión 16, 1156, 111556, 11110506, ... que se obtienen intercalando 15 entre las cifras centrales de cada uno, para obtener el siguiente, son siempre cuadrados perfectos.

demostración. - Veamos que

$$\begin{aligned} 16 &= 4^2 \\ 1156 &= 34^2 \\ 111056 &= 334^2 \\ \dots \end{aligned}$$

Demostraremos por inducción que esto es cierto para cualquier número de ese tipo.

Supongamos que $11\dots155\dots56 = [33\dots34]^2$

Tendremos que probar que se cumple para $n+1$, es decir que el cuadrado de $33\dots34$ es de la forma de los n^{os} miembros,

es decir:

$$\begin{aligned} [33\dots34]^2 &= [3 \cdot 10^{n+1} + 3\dots34]^2 = \\ &= \underbrace{9 \cdot 10^{2n+2}}_{(1)} + \underbrace{11\dots155\dots56}_{(2)} + \underbrace{2 \cdot 3 \cdot 10^{n+1} \cdot 3\dots34}_{(3)} \end{aligned}$$

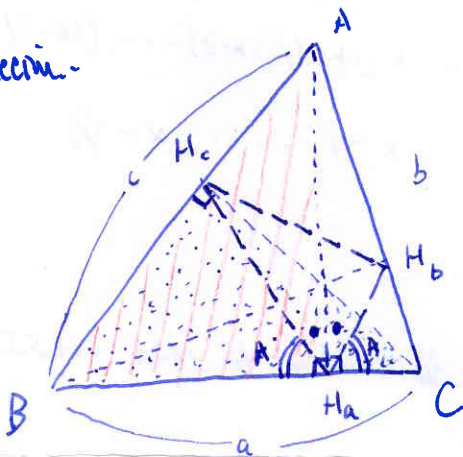
sumamos las expresiones (1) (2) y (3):

lo transformamos en $200\dots04 \cdot 10^{n+1}$ (3)

$$\begin{array}{r}
 90 \dots\dots\dots (2u+2) \dots\dots\dots 0 \\
 + 1 \dots\dots (u+1) \dots\dots 115 \dots\dots (u) \dots\dots 56 \\
 20 \dots\dots (u) \dots\dots 040 \dots\dots (u+1) \dots\dots 0 \\
 \hline
 11 \dots\dots (u+2) \dots\dots 155 \dots\dots (u+1) \dots\dots 56 \text{ c.q.d.}
 \end{array}$$

Problema 6. - Demostrar que las alturas de un triángulo acutángulo son las bisectrices de los ángulos de un triángulo cuyos vértices son los pies de estas alturas.

Solución.



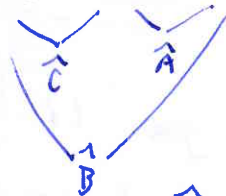
Los triángulos $\triangle ABH_a$ (rayado en rojo) y $\triangle BCH_c$ (punteado) son semejantes, pues tienen los tres ángulos iguales (un áng. recto, uno común (\hat{B}), y el tercero por suplementario).

$$\text{Así se cumple } \frac{c}{BH_a} = \frac{a}{BH_c} \rightarrow \frac{c}{a} = \frac{BH_a}{BH_c}$$

lo cual implica que $\triangle ABC$ es semejante a $\triangle BH_aH_c$ (un ángulo común y los lados proporcionales).

$$\frac{a}{BH_c} = \frac{b}{H_aH_c} = \frac{c}{BH_a}$$

$$\text{siendo } \angle BH_aH_c = \hat{A} \neq$$



De forma análoga se justificaría que $\triangle ABC \approx \triangle CH_aH_b$ siendo $\angle CH_aH_b = \hat{A}$ (ver figura).

Finalmente si a los ángulos rectos con vértice en el punto H_a (altura AH_a) les restamos a cada uno un ángulo \hat{A} , los ángulos que nos quedan (figura señalada con \bullet) serán iguales, y decir

$$\angle AH_aH_c = \angle AH_aH_b \text{ luego la altura } AH_a \text{ es bisectriz (una de ellas) del triángulo } H_aH_bH_c \text{ . c. q. d. } \neq$$